



enade2022

Exame Nacional de Desempenho dos Estudantes

TECNOLOGIA EM GESTÃO FINANCEIRA

Novembro | 22

LEIA COM ATENÇÃO AS INSTRUÇÕES ABAIXO.

1. Verifique se, além deste Caderno, você recebeu o **CARTÃO-RESPOSTA**, destinado à transcrição das respostas das questões de múltipla escolha, das questões discursivas (D) e das questões de percepção da prova.
2. Confira se este Caderno contém as questões discursivas e as objetivas de múltipla escolha, de formação geral e do componente específico da área, e as relativas à sua percepção da prova. As questões estão assim distribuídas:

Partes	Número das questões	Peso das questões no componente	Peso dos componentes no cálculo da nota
Formação Geral: Discursivas	D1 e D2	40%	25%
Formação Geral: Objetivas	01 a 08	60%	
Componente Específico: Discursivas	D3 a D5	15%	75%
Componente Específico: Objetivas	09 a 35	85%	
Questionário de Percepção da Prova	01 a 09	-	-

3. Verifique se a prova está completa e se o seu nome está correto no **CARTÃO-RESPOSTA**. Caso contrário, avise imediatamente ao Chefe de Sala.
4. Assine o **CARTÃO-RESPOSTA** no local apropriado, com caneta esferográfica **de tinta preta, fabricada em material transparente**.
5. As respostas da prova objetiva, da prova discursiva e do questionário de percepção da prova deverão ser transcritas, com caneta esferográfica de tinta preta, fabricada em material transparente, no **CARTÃO-RESPOSTA** que deverá ser entregue ao Chefe de Sala ao término da prova.
6. Responda cada questão discursiva em, no máximo, 15 linhas. Qualquer texto que ultrapasse o espaço destinado à resposta será desconsiderado.
7. A prova terá duração de quatro horas. Lembre-se de reservar um período para transcrição das respostas para o **CARTÃO-RESPOSTA**.
8. Ao terminar a prova, acene para o Chefe de Sala e aguarde-o em sua carteira. Ele então irá proceder à sua identificação, recolher o seu material de prova e coletar a sua assinatura na Lista de Presença.
9. Atenção! Você deverá permanecer na sala de aplicação por, no mínimo, uma hora a partir do início da prova e só poderá levar este Caderno quando faltarem 30 minutos para o término da prova.



enade2022

FORMAÇÃO GERAL

QUESTÃO DISCURSIVA 01

TEXTO 1

A Fiocruz é uma instituição de ciência, saúde e educação, vinculada ao Ministério da Saúde, que completou 120 anos. Com várias ações de pesquisa, de desenvolvimento de tecnologias, de produção de vacinas e medicamentos, a Fiocruz se dedica a enfrentar grandes desafios sanitários. Seu trabalho é fundamental para pensarmos em um país com mais justiça e equidade.

Disponível em: <https://www.anped.org.br/News/sbpc-divulga-manifesto-em-defesa-da-educacao-da-ciencia-eda-democracia>. Acesso em: 8 ago. 2022 (adaptado).

TEXTO 2

Com a pandemia do novo coronavírus, intensificaram-se as dificuldades e limitações físicas, orçamentárias e estruturais para a pesquisa científica. Durante o período de isolamento social, com o fechamento das salas de aula e dos laboratórios, as universidades, com seus professores, acadêmicos e funcionários, precisaram se reinventar. O fazer ciência é um processo complexo que envolve pesquisadores, acadêmicos, estrutura física, horas de dedicação, testes, erros e acertos. Muitas vezes, é preciso também recomeçar, buscar novas metodologias, olhar o resultado por outro viés e reaprender a ler o que se descobriu. Por tudo isso, a pesquisa não é algo que se faz da noite para o dia, e produzi-la é ainda mais desafiador.

Disponível em: <https://www.upf.br>. Acesso em: 6 jun. 2022 (adaptado).

TEXTO 3

A tabela a seguir apresenta a variação do orçamento federal nos anos de 2020 e 2021.

Pasta	Orçamento Federal em 2021 (em bilhões de R\$)	Varição (2020 - 2021)
Agricultura	10,42	- 0,2%
Cidadania	103,9	+ 22,1%
Ciência, Tecnologia e Inovações	8,36	- 28,7%
Defesa	65,33	- 9,8%
Desenvolvimento Regional	10,68	+ 23,6%
Economia	569,49	- 4,6%
Educação	74,56	- 27,1%
Infraestrutura	17,29	- 8,1%
Justiça e Segurança Pública	11,46	- 11,7%
Meio Ambiente	2	- 25,1%
Minas e Energia	8,94	+ 44,2%
Mulher, Família e Direitos Humanos	0,52	+ 44,4%
Relações Exteriores	1,97	- 17,2%
Saúde	136,23	+ 4,8%
Turismo	1,73	- 5,5%

PLOA – PLN 28/2020, com as alterações do Congresso Nacional e Consultoria de Orçamento do Senado Federal. Agência Senado.



Com base nas informações dos textos e da tabela apresentados e considerando o contexto da pandemia de Covid-19, faça o que se pede nos itens a seguir.

- a) Discuta por que os investimentos públicos em educação, ciência, tecnologia e inovação são estratégicos e contribuem para o desenvolvimento científico de um país. (valor: 5,0 pontos)
- b) Explique como o fomento público ao desenvolvimento científico pode atender à justiça social e à equidade, em contextos como o da pandemia de Covid-19. (valor: 5,0 pontos)

RASCUNHO	
1	
2	
3	
4	
5	
6	
7	
8	
9	
10	
11	
12	
13	
14	
15	

Área livre



QUESTÃO DISCURSIVA 02

O patriarcado (ou dominação masculina) é composto por diferentes estruturas que se conectam na reprodução das desvantagens e da vulnerabilidade das mulheres nas sociedades contemporâneas. A violência sexual é uma delas; a exclusão política é outra. Embora essas não esgotem todas as estruturas de dominação, são elas que, em conjunto com a divisão sexual do trabalho, são mais determinantes. Ambas se alimentam e, ao mesmo tempo, ativam estereótipos de gênero em que o feminino convencional está associado à domesticidade e à aceitação, pelas mulheres, da autoridade masculina.

Algumas farsas ocupam papel importante na justificação da violência contra as mulheres, tanto na violência da exclusão política quanto na sexual. Uma dessas farsas é a de que as mulheres não se interessam pela política. Nesse sentido, estaríamos diante da autoexclusão. A outra é que as mulheres seriam as culpadas pela violência sexual que sofrem sistematicamente. Aqui, o problema seria que elas estão onde não deveriam estar, se vestem como não deveriam, isto é, se comportam *como se fossem* livres.

BIROLI, F. **Mulheres, política e violência**. Disponível em: <https://blogdaboitempo.com.br>. Acesso em: 18 jul. 2022 (adaptado).

Com base no texto apresentado, faça o que se pede nos itens a seguir.

- a) Discorra sobre a relação entre o patriarcado estrutural e a desigualdade entre homens e mulheres. (valor: 5,0 pontos)
- b) Proponha duas ações do Estado para o enfrentamento dos diferentes tipos de violência contra a mulher. (valor: 5,0 pontos)

RASCUNHO	
1	
2	
3	
4	
5	
6	
7	
8	
9	
10	
11	
12	
13	
14	
15	

QUESTÃO 01

TEXTO 1

A democracia representativa exige, para o seu funcionamento, um conjunto de características, as quais podem ser compreendidas como instituições. São elas: Funcionários eleitos; Eleições livres, justas e frequentes; Sufrágio inclusivo; Direito de concorrer a cargos eletivos; Liberdade de expressão; Fontes de informação diversificadas; Autonomia para as associações. Entre as categorias mencionadas, destacam-se duas como pilares do regime democrático.

Liberdade de expressão: os cidadãos têm o direito de se expressar, sem o perigo de punições severas, quanto aos assuntos políticos de uma forma geral, o que inclui a liberdade de criticar os funcionários do governo, o governo em si, o regime, a ordem socioeconômica e a ideologia dominante.

Fontes de informação diversificadas: os cidadãos têm o direito de buscar fontes de informação, alternativas, diversificadas e independentes. Ademais, a existência de fontes de informação alternativa deve ser protegida por lei.

DAHL, R. A. *Sobre a democracia*, EDU: UnB, 2001 (adaptado).

TEXTO 2

Embora os regimes políticos possam ser derrubados e as ideologias criticadas e destituídas de sua legitimidade, por trás de um regime e de sua ideologia há sempre um modo de pensar e de sentir, uma série de hábitos culturais, uma nebulosa de instintos obscuros e de pulsões insondáveis.

ECO, U. *O Fascismo Eterno*. In: *Cinco Escritos Morais*. Editora Record: Rio de Janeiro, 2002 (adaptado).

TEXTO 3

A figura a seguir exemplifica algumas condutas que, segundo Umberto Eco, podem ser consideradas contraditórias aos princípios democráticos.



Disponível em: <https://www.facebook.com/EditoraRecord/photos>. Acesso em: 18 ago. 2022 (adaptado).

Com base na concepção de regimes políticos, abordada pelos autores, avalie as afirmações a seguir.

- I. A democracia é o sistema que se propõe a assegurar aos seus cidadãos uma liberdade pessoal mais ampla do que outros modelos.
- II. A liberdade de expressão no sistema democrático garante que a manifestação de um agente político e de um cidadão possuam repercussões equivalentes.
- III. As *fake news* são manifestações relacionadas à categoria de fontes de informação diversificadas e podem ser utilizadas como estratégia para fragilizar o sistema democrático de governo.
- IV. O direito à liberdade de expressão permite a emissão de opinião crítica e discursos contrários à democracia e aos direitos humanos.

É correto apenas o que se afirma em

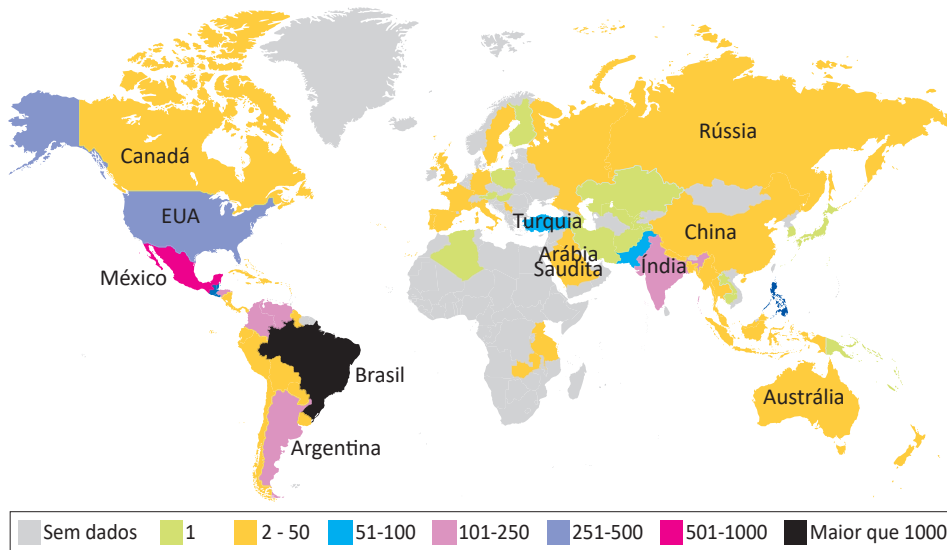
- A I e II.
- B I e III.
- C II e IV.
- D I, III e IV.
- E II, III e IV.

QUESTÃO 02

TEXTO 1

Dados do levantamento feito pelo *TransgenderEurope* (TGEU) mostram que o Brasil permaneceu pelo 13º ano consecutivo como o país que mais mata pessoas transgêneros.

Mortes de Transgêneros - Por Países de 2008 a 2021 (Números Absolutos)

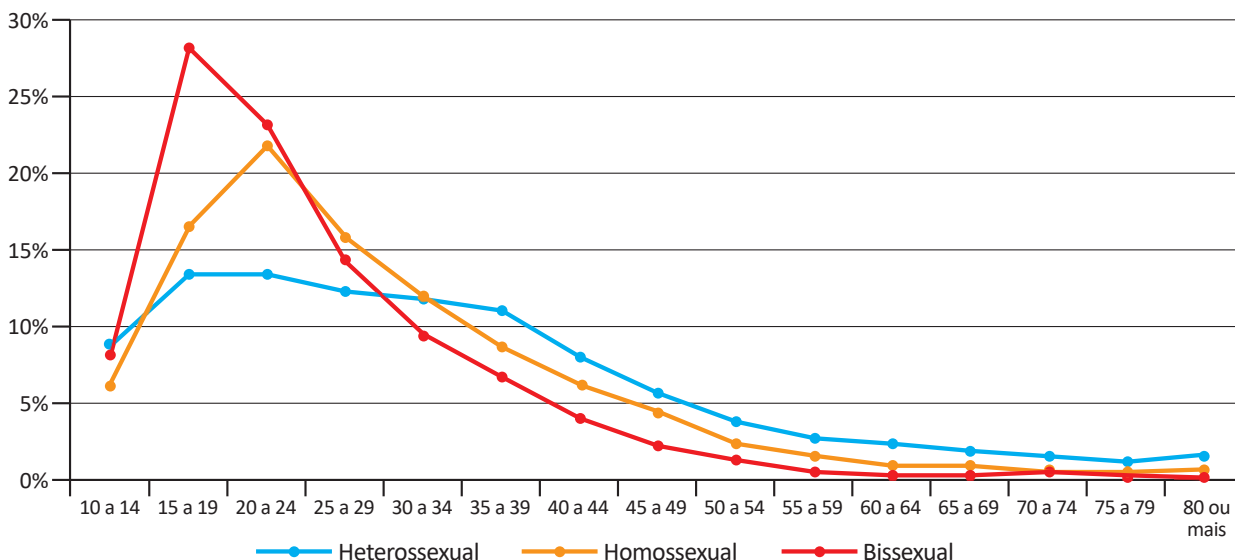


TRANSGENDER EUROPE (TGEU). Disponível em: <https://transrespect.org>. Acesso em: 5 jul. 2022 (adaptado).

TEXTO 2

De acordo com dados do Sistema de Informação de Agravos de Notificação (Sinan), do Ministério da Saúde, houve um crescimento bruto de 5% nas violências contra homossexuais e 37,1% nas violências contra bissexuais, passando de 4 855 registros em 2018 para 5 330 em 2019. No gráfico a seguir são apresentados os dados percentuais de casos notificados em 2019, de acordo com a orientação sexual das vítimas de violência.

Brasil: Perfil de Pessoas Homossexuais e Bissexuais Vítimas de Violência, por Orientação Sexual, por Faixa Etária (2019)



CERQUEIRA, D. et al. *Atlas da Violência 2021*. São Paulo: FBSP/IPEA, 2021.

Considerando as informações apresentadas no mapa e no gráfico, bem como a situação social dos grupos LGBTQIAPN+, avalie as afirmações a seguir.

- I. Os discursos e as práticas contra a diversidade sexual e de gênero são incompatíveis com as premissas éticas e dos direitos humanos que regem as sociedades democráticas.
- II. A violência contra os grupos LGBTQIAPN+ é histórica, simbólica, psicológica e física, ocorrendo em razão de estereótipos e estigmas vigentes na sociedade e por meio de repressões e abusos.
- III. A partir dos 40 anos de idade, há uma maior incidência de violência sobre pessoas heterossexuais em relação aos outros grupos, o que indica que a vulnerabilidade independe da orientação sexual.
- IV. O Brasil é o país onde se identifica o maior número de mortes de pessoas *trans* entre os países analisados, situação que revela a necessidade de uma política pública mais assertiva de combate aos crimes cometidos contra os grupos LGBTQIAPN+.

É correto apenas o que se afirma em

- A** I e III.
- B** I e IV.
- C** II e III.
- D** I, II e IV.
- E** II, III e IV.

QUESTÃO 03

Em 2019, a violência armada foi três vezes maior para a população negra, em comparação com a não negra, tanto para a população geral quanto para o grupo jovem (entre 15 e 29 anos de idade). Quanto à taxa de mortalidade por 100 mil habitantes no grupo de pessoas com até 14 anos de idade, destaca-se, da mesma forma, a desigualdade na vitimização de crianças e adolescentes negros por agressão com arma de fogo, com taxa 3,6 vezes maior do que a de não negros em 2019.

INSTITUTO SOU DA PAZ. **Violência armada e racismo:** o papel da arma de fogo na desigualdade racial. Disponível em: <https://soudapaz.org>. Acesso em: 6 jul. 2022 (adaptado).

Considerando as informações apresentadas, avalie as asserções a seguir e a relação proposta entre elas.

- I. O fator racial é um importante condicionante na análise de dados relativos a homicídios e violência no Brasil na população de adolescentes e jovens.

PORQUE

- II. A população negra sofre mais violência do que a população não negra, em razão do racismo estrutural existente no país, além de outras vulnerabilidades sociais associadas a essa forma de preconceito.

A respeito dessas asserções, assinale a opção correta.

- A** As asserções I e II são proposições verdadeiras, e a II é uma justificativa correta da I.
- B** As asserções I e II são proposições verdadeiras, mas a II não é uma justificativa correta da I.
- C** A asserção I é uma proposição verdadeira, e a II é uma proposição falsa.
- D** A asserção I é uma proposição falsa, e a II é uma proposição verdadeira.
- E** As asserções I e II são proposições falsas.

QUESTÃO 04



Foto: Renato Soares. Disponível em: <http://conexaoplaneta.com.br>. Acesso em: 22 ago. 2022 (adaptada).

TEXTO 1

Além de tramitar no Judiciário um processo a respeito do Marco Temporal, há também, na Câmara dos Deputados, um projeto em que se tenta transformar a tese do Marco Temporal em lei. Trata-se do Projeto de Lei n. 490/2007, que determina que devem ter direito às terras consideradas ancestrais somente os povos que as estivessem ocupando no dia da promulgação da Constituição Federal, em 5 de outubro de 1988.

Disponível em: <https://g1.globo.com>. Acesso em: 21 jun. 2022 (adaptado).

TEXTO 2

O assassinato do indigenista Bruno Pereira e do jornalista Dom Phillips expôs ao mundo a importância da demarcação dos territórios indígenas, assegurada pela Constituição Federal de 1988. Os territórios indígenas, além de preservarem identidades, modos de vida, tradições e culturas desses povos, também são fundamentais para a preservação ambiental. Eles contribuem para conter as emissões de gases de efeito estufa, promover a biodiversidade e potencializar sistemas.

Se mantido o critério do Marco Temporal, a guerra fundiária poderá ser intensificada. Os territórios se tornarão zonas de mais conflitos entre fazendeiros, mineradores, garimpeiros, grileiros, produtores rurais, narcotraficantes, comerciantes de peixes, caçadores e madeireiros, o que resultará na morte de indígenas e de defensores da floresta e, por extensão, dos territórios indígenas.



Com base nos textos e na imagem apresentados, avalie as afirmações a seguir.

- I. Os territórios indígenas, com a regulamentação do Marco Temporal, ficarão formalmente protegidos de invasões, e os povos originários poderão manter suas tradições culturais.
- II. As ações de grupos de garimpeiros, de pescadores ilegais, de desmatadores e de alguns setores das atividades agropecuárias vêm confrontando os povos originários em disputas territoriais.
- III. O aumento da criminalidade nos territórios indígenas está associado aos interesses econômicos de exploração insustentável do meio ambiente, como os relacionados aos garimpos ilegais e ao desmatamento de florestas.
- IV. A existência dos movimentos sociais indígenas é essencial para a luta por direitos sociais, culturais e de acesso à terra pelos povos originários, assim como para a preservação do meio ambiente e do modo de vida dos indígenas.
- V. O Estado brasileiro está impedido de intervir nas demarcações de territórios indígenas, em respeito à autonomia, à autogestão e à livre determinação dos povos originários, segundo a Constituição Federal de 1988.

É correto apenas o que se afirma em

- A** I e V.
- B** I, III e V.
- C** II, III e IV.
- D** II, IV e V.
- E** I, II, III e IV.

QUESTÃO 05

Pesquisa realizada pelo Observatório Brasileiro de Políticas Públicas da Universidade Federal de Minas Gerais (UFMG) aponta que a população em situação de rua aumentou no Brasil em 2022. De janeiro a maio deste ano, mais de 26 mil novas pessoas nessa situação foram registradas no Cadastro Único (CadÚnico) do Governo Federal. No país, mais de 180 mil pessoas estão registradas no CadÚnico.

Disponível em: <https://g1.globo.com>. Acesso em: 6 jul. 2022 (adaptado).

Considerando as informações apresentadas, avalie as asserções a seguir e a relação proposta entre elas.

- I. A existência de pessoas em situação de rua no Brasil deriva, sobretudo, das desigualdades sociais oriundas da pandemia de Covid-19.

PORQUE

- II. Um dos efeitos da pandemia de Covid-19 foi a ampliação do número de pessoas em situação de rua no Brasil, o que evidencia a segregação socioespacial das cidades brasileiras.

A respeito dessas asserções, assinale a opção correta.

- A** As asserções I e II são proposições verdadeiras, e a II é uma justificativa correta da I.
- B** As asserções I e II são proposições verdadeiras, mas a II não é uma justificativa correta da I.
- C** A asserção I é uma proposição verdadeira, e a II é uma proposição falsa.
- D** A asserção I é uma proposição falsa, e a II é uma proposição verdadeira.
- E** As asserções I e II são proposições falsas.

QUESTÃO 06

Ao final de 2021, cerca de 89,3 milhões de pessoas estavam deslocadas em todo o mundo, em decorrência de violência, perseguições, violações dos direitos humanos ou outros conflitos em seus locais de origem. Esse contingente de deslocamentos forçados já alcançava mais de 100 milhões de pessoas em maio de 2022, sendo motivados por instabilidades como as ocorridas no Afeganistão, em alguns países africanos e nas regiões da Ucrânia ocupadas pela Rússia, além de outros locais onde já perduravam confrontos armados, como, por exemplo, na Síria.

Disponível em: <https://www.acnur.org>. Acesso em: 21 jun. 2022 (adaptado).



Disponível em: <https://operamundi.uol.com.br>. Acesso em 24 de jun. de 2022.

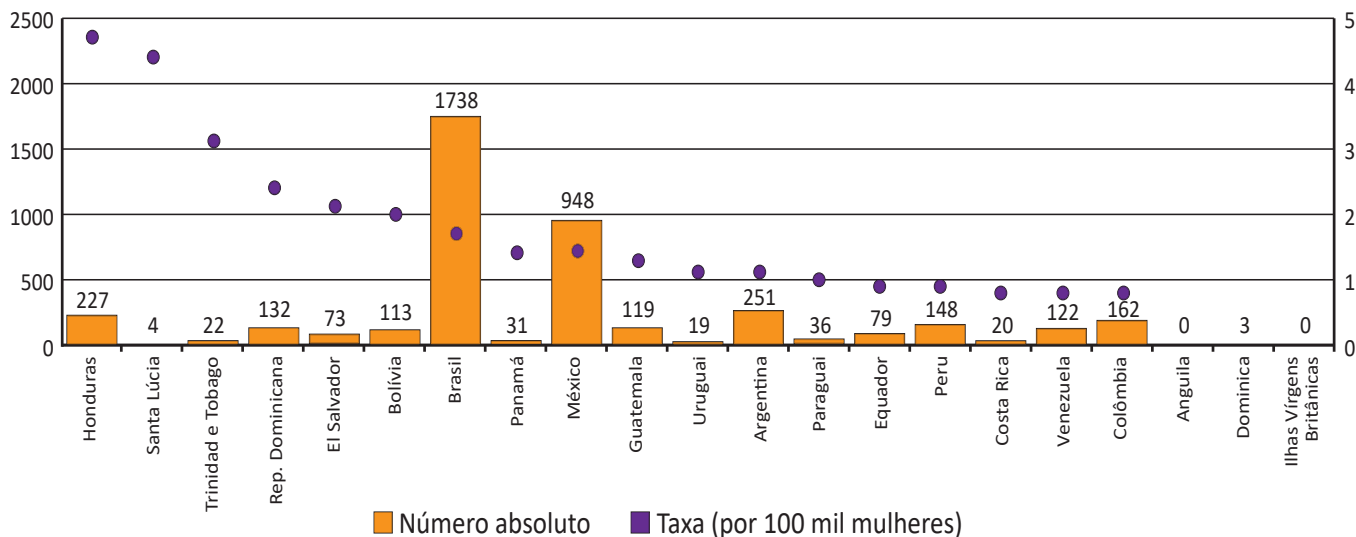
Com relação às atuais migrações internacionais forçadas, assinale a opção correta.

- A** Os interesses em relação ao tipo de tratamento dispensado aos imigrantes no mundo independem de seus países de origem.
- B** A xenofobia, que consiste no preconceito contra estrangeiros, deve-se à falta de normas internacionais para o tratamento de situações de imigração.
- C** Os refugiados são migrantes de países subdesenvolvidos que se deslocam para países centrais do capitalismo global a fim de servir de mão de obra barata.
- D** As migrações internacionais forçadas surgem da globalização econômica, cujos processos são responsáveis pelo aumento do número de refugiados no mundo.
- E** A condição de migrante internacional forçado diferencia-se da condição geral de imigrante na medida em que se refere ao deslocamento motivado por fatores involuntários, que fogem ao controle do migrante e de sua família.

QUESTÃO 07

TEXTO 1

América Latina, Caribe (21 países): Femicídio ou feminicídio (2021)
(Em números absolutos e taxas por 100 mil mulheres)



Disponível em: <https://olg.cepal.org>. Acesso em: 20 abr. 2022.

TEXTO 2

Resultados de pesquisa da Comissão Econômica para a América Latina e o Caribe (CEPAL), vinculada à Organização das Nações Unidas (ONU), apontam que, além do feminicídio íntimo, aquele perpetrado por parceiros ou ex-parceiros da vítima, e do feminicídio sexual sistêmico, em que a vítima é sequestrada e estuprada, há o feminicídio lesbofóbico ou bifóbico, configurado quando a vítima é bissexual ou lésbica e é assassinada porque o agressor entende que deve puni-la por sua orientação sexual.

Disponível em: <http://agenciabrasil.ebc.com.br>. Acesso em: 22 ago. 2022 (adaptado).

A partir do gráfico e das informações do texto, assinale a opção correta.

- A** O gráfico apresentado ranqueia os países a partir de um cálculo de proporção e, nessa perspectiva, Santa Lúcia apresenta uma das taxas mais baixas de feminicídio na região.
- B** As políticas públicas voltadas às mulheres partem do pressuposto de que elas devem ser as principais responsáveis por sua própria segurança, evitando comportamentos de risco.
- C** Os países da América Latina que apresentam as maiores taxas de ocorrência de feminicídios a cada 100 mil mulheres, de acordo com o gráfico apresentado, são Brasil, México e Argentina.
- D** As formas de violência que afetam as mulheres são determinadas não somente pela condição sexual e de gênero, mas também por diferenças econômicas, etárias, raciais, culturais e religiosas.
- E** O número relativo a cada 100 mil mulheres vítimas de feminicídio no Brasil explica a posição elevada do país no ranking, diferentemente de Honduras, que registra, relativamente, menos ocorrências que o Brasil.

QUESTÃO 08



Grafite: Eduardo Kobra. Foto: Charles Humpreys. São Paulo. Disponível em: <https://www.bbc.com>. Acesso em: 22 ago. 2022.

Inicialmente, a natureza transgressora do grafite foi encarada pelo Estado como vandalismo no espaço público e como um perigo para a conservação da propriedade privada, devendo-se, portanto, combatê-lo. Com o tempo, contudo, essa concepção marginal transformou-se, incidindo em uma valorização aceitável pelo Estado e positiva para a sociedade. Essa transição do grafite, de arte marginal para manifestação artística reconhecida e aceita, tem revelado aspectos importantes não somente para os profissionais do grafite, mas para a sociedade como um todo, pois incorpora a possibilidade de ele ser um produto artístico de valor cultural, econômico e ideológico.

PIRES, E. M.; SANTOS, F. A. A cidade de São Paulo e suas dinâmicas: graffiti, Lei Cidade Limpa e publicidade urbana. *Anais do Museu Paulista: História e Cultura Material*. v. 26, São Paulo, 2018 (adaptado).

Considerando-se o texto e a imagem apresentados, é correto afirmar que o grafite consiste em uma

- A** expressão popular associada à contestação e, por isso, não é reconhecido como arte.
- B** expressão convencional de hierarquias consolidadas ao longo do tempo e ainda presentes na sociedade.
- C** expressão cultural que problematiza os valores e as relações da sociedade com os espaços onde é produzida.
- D** intervenção urbana que traz prejuízos para a sociedade porque gera conflitos latentes entre diferentes classes sociais.
- E** intervenção estética realizada com o propósito de embelezamento padronizado dos espaços urbanos pelo uso de cores intensas e contrastantes.



COMPONENTE ESPECÍFICO

QUESTÃO DISCURSIVA 03

O cálculo do **Grau de Alavancagem Operacional (GAO)** tem duas finalidades: medir a distância que a empresa está do ponto de equilíbrio e medir a variação no lucro em razão de variabilidade nas vendas.

Para calcular o GAO, é necessário que o gestor esteja atento e tenha acesso às informações financeiras e contábeis do negócio, mais precisamente, à Variação Percentual no Lucro Operacional e nas Vendas, considerando:

$$\text{GAO} = \text{Variação Percentual no Lucro Operacional} / \text{Variação Percentual nas Vendas}.$$

A partir dessas informações, suponha que uma empresa, por meio de suas vendas, obtenha, mensalmente, a receita de R\$ 20 mil e tenha lucro operacional R\$ 10 mil. No entanto, em determinado período, a empresa decidiu adquirir novos recursos, o que ampliou suas vendas para R\$ 30 mil, passando a ter lucro operacional de R\$ 12 mil.

Acerca dessa situação hipotética, faça o que se pede nos itens a seguir.

- a) Calcule o GAO da mencionada empresa. (valor: 4,0 pontos)
- b) Interprete o resultado desse cálculo. (valor: 6,0 pontos)

RASCUNHO	
1	
2	
3	
4	
5	
6	
7	
8	
9	
10	
11	
12	
13	
14	
15	

Área livre



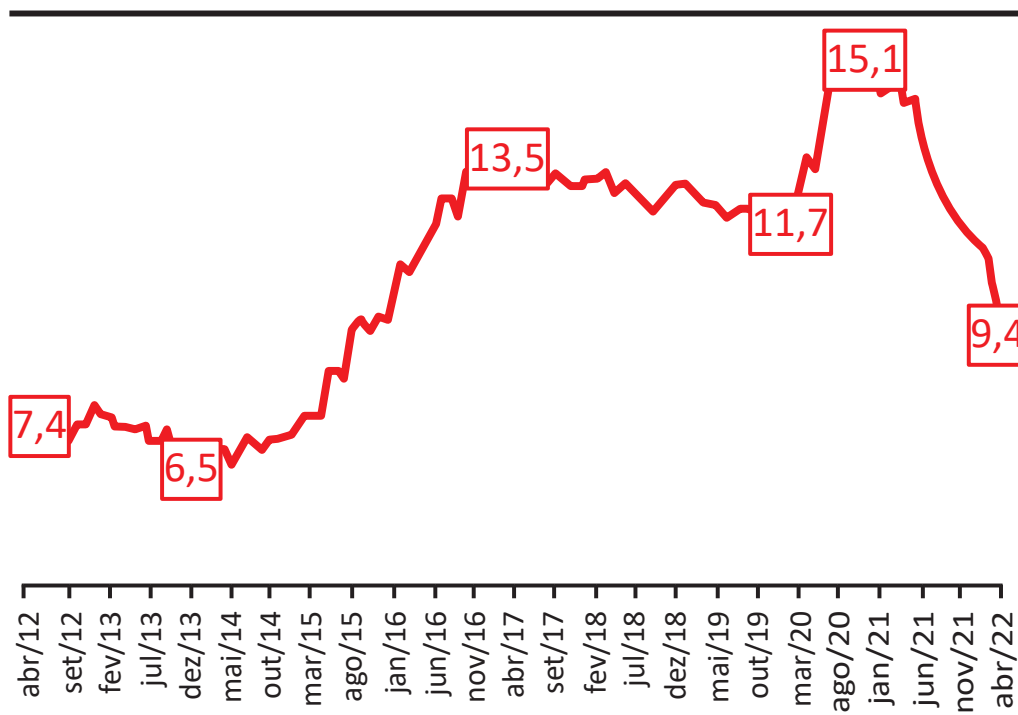
QUESTÃO DISCURSIVA 04

De forma simplificada, o desemprego diz respeito às pessoas com idade para trabalhar (acima de 14 anos) que não estão trabalhando, mas estão disponíveis e tentam encontrar ocupação. De acordo com a metodologia usada pelo Instituto Brasileiro de Geografia e Estatística (IBGE) na Pesquisa Nacional por Amostra de Domicílios Contínua (PNAD Contínua), o estudante e a dona de casa estão fora da força de trabalho.

A PNAD Contínua mostra quantos desempregados há no Brasil. Nela, o que é conhecido popularmente como desemprego é registrado como desocupação. Nesse sentido, no trimestre de março a maio de 2022, a taxa de desocupação (9,8%) recuou 1,4 ponto percentual, comparada à do trimestre anterior, de dezembro de 2021 a fevereiro de 2022. A partir do 4º trimestre de 2021, começou-se a observar um processo de inserção da população ocupada em atividades como construção, indústria, agricultura e serviços relacionados à tecnologia da informação e comunicação.

Com a melhoria no quadro da pandemia, os serviços mais presenciais, que tinham sido bastante afetados, começaram a vislumbrar uma recuperação. Trata-se de um processo de reversão das perdas que ocorreram em 2020, com gradativa melhora ao longo de 2021. A economia, a renda e os empregos de uma parcela considerável da população brasileira foram profundamente afetados pelos distúrbios criados pela pandemia. O resultado desse processo para as famílias brasileiras foi desastroso, uma vez que, durante esse período, a renda domiciliar *per capita* diminuiu. No início de 2022, houve certa estabilidade da população ocupada, retomando-se a expansão em diversas atividades econômicas, conforme apresenta o gráfico a seguir.

Taxa de desocupação dessazonalizada (%)



Disponível em: ibge.gov.br/estatisticas/sociais/trabalho/. Acesso em: 25 ago. 2022 (adaptado).



Considerando as informações apresentadas, redija um texto sobre a taxa de desocupação e os impactos da pandemia de Covid-19 na vida das famílias brasileiras. Em seu texto, aborde os seguintes aspectos:

- o impacto da pandemia na renda das famílias brasileiras, considerando a taxa de desemprego no Brasil;
- a taxa de desocupação no trimestre de março a maio de 2022 comparada à do trimestre anterior.

(valor: 10,0 pontos)

RASCUNHO	
1	
2	
3	
4	
5	
6	
7	
8	
9	
10	
11	
12	
13	
14	
15	

Área livre





QUESTÃO DISCURSIVA 05

A análise financeira é um processo crítico sobre os demonstrativos contábeis, que visa avaliar a situação da empresa. Portanto, é fundamental entender esses demonstrativos para administrar bem o negócio em que a empresa está inserida.

BAZZI, S. *Análise das demonstrações contábeis*. São Paulo: Pearson Education do Brasil, 2016 (adaptado).

A tabela a seguir mostra os indicadores econômicos e financeiros de uma empresa.

Grupo Contábil	Ano 1	Ano 2
Capital Circulante Líquido (CCL)	R\$ 279 357,00	R\$ 391 300,00
Liquidez Corrente (LC)	1,22	1,31
Endividamento Geral (EG)	60,65%	70,73%

Considerando as informações apresentadas, analise os resultados de cada indicador, faça um comparativo entre os dois anos e aborde os aspectos a seguir.

- a) O Capital Circulante Líquido (CCL) nos dois períodos e em qual ano a empresa esteve em uma situação mais confortável. (valor: 3,0 pontos)
- b) As condições de liquidar suas dívidas de acordo com a Liquidez Corrente (LC) apresentada nos dois anos. (valor: 3,0 pontos)
- c) O grau de Endividamento Geral (EG) dos dois anos e em qual deles a empresa utilizou mais capital de terceiros. (valor: 4,0 pontos)

RASCUNHO	
1	
2	
3	
4	
5	
6	
7	
8	
9	
10	
11	
12	
13	
14	
15	



QUESTÃO 09

A empresa ABC/SA apresentou seu balancete em 31/12/2020 com as contas descritas a seguir e seus respectivos saldos em reais.

Capital Social Integralizado	50 000,00
Banco Conta Empréstimos (vencimento em 31/01/2022)	3 500,00
Estoques de Mercadorias	10 200,00
Fornecedores (vencimento em 15/03/2021)	19 100,00
Tributos a Recolher (vencimento 25/01/2021)	5 250,00
Máquinas e Equipamentos	25 000,00
Depreciação Acumulada	2 500,00
Adiantamento de Clientes	1 000,00
Duplicatas a Receber	38 000,00
Receita Bruta de Vendas	80 000,00
Tributos sobre Vendas	24 000,00
Custo de Mercadorias Vendidas	38 000,00
Despesas Administrativas	3 000,00
Salários a Pagar	15 000,00
Caixa	10 000,00
Prejuízos Acumulados	28 150,00

Com base nas informações apresentadas, o valor do passivo circulante é de

- A** R\$ 39 350,00.
- B** R\$ 40 350,00.
- C** R\$ 42 850,00.
- D** R\$ 43 350,00.
- E** R\$ 43 850,00.

Área livre



QUESTÃO 10

A tabela a seguir expõe a Demonstração do Resultado do Exercício de uma empresa.

Demonstração do Resultado do Exercício (R\$)		
	2020	2019
Receita Líquida de Vendas	1 000 000,00	800 000,00
(-) Custo da Mercadoria Vendida	(600 000,00)	(400 000,00)
(=) Lucro Bruto	400 000,00	400 000,00
(-) Despesas com Vendas	(50 000,00)	(100 000,00)
(-) Despesas Administrativas	(80 000,00)	(90 000,00)
(-) Despesas Financeiras	(30 000,00)	(70 000,00)
(-) Depreciação	(40 000,00)	(40 000,00)
(=) Lucro Operacional Antes dos Impostos	200 000,00	100 000,00
(-) Imposto de Renda e Contribuição Social	(68 000,00)	(34 000,00)
(=) Lucro Líquido	132 000,00	66 000,00

Com base nos dados apresentados, avalie as afirmações abaixo.

- I. A margem bruta de 2020 foi superior à margem bruta de 2019.
- II. A margem líquida de 2020 foi superior à margem líquida de 2019.
- III. O EBITDA (lucro antes dos juros, impostos, depreciação e amortização) do ano de 2020 foi superior ao EBITDA de 2019.

É correto o que se afirma em

- A** I, apenas
- B** III, apenas
- C** I e II, apenas
- D** II e III, apenas
- E** I, II, e III.

Área livre

**QUESTÃO 11**

As organizações têm mantido posturas cada vez mais competitivas no mercado, revelando um cenário em que é mais explícita e almejada a geração de valor do que o volume de vendas. Logo, sobreviver em um mercado instável é um grande desafio para as empresas, sejam elas de pequeno, médio ou grande porte. Então, uma avaliação do retorno financeiro ajuda a evidenciar a rentabilidade sobre o capital investido e verificar se a empresa de fato está obtendo sucesso econômico.

Disponível em: <http://www.contabeis.com.br/artigos/3261/os-principais-indicadores-de-investimento-da-analise-financeira/>. Acesso em: 5 jul. 2022 (adaptado).

A tabela a seguir evidencia os indicadores econômicos e financeiros de uma empresa.

Rentabilidade do capital próprio	7,0%
Liquidez geral	1,20
Composição do endividamento	0,60
Imobilização do capital próprio	0,40

Com base nas informações apresentadas, avalie as afirmações a seguir.

- I. O índice de rentabilidade do capital próprio indica o quanto rende o capital médio aplicado na empresa pelos proprietários.
- II. O índice de liquidez geral significa que a empresa possui bens e direitos suficientes para liquidar os compromissos financeiros a curto prazo.
- III. O índice composição de endividamento indica que 60% da dívida da empresa vence a curto prazo.
- IV. O índice imobilização do capital próprio significa que 40% dos recursos próprios estão investidos em ativos de natureza permanentes.

É correto apenas o que se afirma em

- A** I e II.
- B** I e IV.
- C** II e III.
- D** I, III e IV.
- E** II, III e IV.

Área livre



QUESTÃO 12

Um empresário aplicou R\$ 5 000 durante 3 anos à taxa de 20% a.a. e obteve os seguintes rendimentos e montantes.

Juros compostos		
Ano	Rendimento (R\$)	Montante (R\$)
1	$5\,000,00 \times 0,2 = 1\,000,00$	6 000,00
2	$6\,000,00 \times 0,2 = 1\,200,00$	7 200,00
3	$7\,200,00 \times 0,2 = 1\,440,00$	8 640,00

Com base nas informações apresentadas, avalie as afirmações a seguir.

- I. O rendimento total dessa aplicação, considerando os três anos, foi de R\$ 3 640,00, e o ano 3 teve R\$ 1 440,00 de juros.
- II. Em quatro anos de aplicação, o montante seria de R\$ 9 200,00 e o rendimento total, considerando o mesmo período, seria de R\$ 5 368,00.
- III. Em cinco anos de aplicação, o montante seria de R\$ 12 441,60 e o rendimento total, considerando esse período, seria de R\$ 7 441,60.

É correto o que se afirma em

- A** I, apenas.
- B** II, apenas.
- C** I e III, apenas.
- D** II e III, apenas.
- E** I, II e III.

Área livre

**QUESTÃO 13**

O mercado de capitais assume papel relevante no processo de desenvolvimento econômico. É o grande financiador de recursos permanentes para a economia, em virtude da ligação que efetua entre os que têm capacidade de poupança, ou seja, os investidores, e aqueles carentes de recursos de longo prazo, que apresentam déficit de investimento. O mercado de capitais está estruturado de forma a suprir as necessidades de investimentos dos agentes econômicos, por meio de diversas modalidades de financiamentos a médio e a longo prazo para capital de giro e capital fixo. Os principais títulos e valores mobiliários no mercado de capitais são os derivados do capital das empresas (ações) e os representativos de empréstimos realizados pelo mercado, como debêntures e *comercial papers*.

ASSAF NETO, A. *Mercado Financeiro*. 15. ed. São Paulo: GEN Atlas, 2021 (adaptado).

Com base nas afirmações do texto, avalie as afirmações a seguir.

- I. O financiamento de capital de giro, realizado por bancos comerciais/múltiplos e bancos de investimentos, visa suprir as necessidades de recursos do ativo circulante (capital de giro) das empresas.
- II. As operações de repasse constituem-se em empréstimos contratados por instituições financeiras do mercado de capitais e repassados a empresas carentes de recursos para investimentos de longo prazo.
- III. As debêntures são títulos de dívida de curto prazo emitidas por sociedades LTDA e destinadas, geralmente, ao financiamento de projetos de investimentos ou para alongamento do perfil de endividamento das empresas.
- IV. A caderneta de poupança é considerada a modalidade de aplicação financeira mais tradicional no Brasil, classificada como conservadora por oferecer baixo risco e, também, menor retorno, principalmente se comparada a outros tipos de aplicações financeiras.

É correto apenas o que se afirma em

- A** I e II.
- B** I e III.
- C** III e IV.
- D** I, II e IV.
- E** II, III e IV.

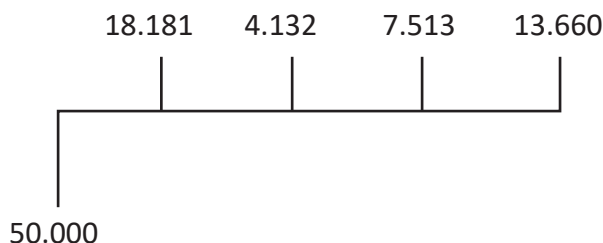
Área livre



QUESTÃO 14

O Restaurante Panela de Barro Ltda está analisando a possibilidade de investir na reforma de sua cozinha, o que permitirá elevar o número de clientes atendidos. O valor do investimento é de R\$ 50 000, cujos fluxos incrementais anuais são de R\$ 20 000,00, R\$ 5 000,00, R\$ 10 000,00 e R\$ 20 000,00. Considere que a taxa de atratividade é de 10% ao ano.

Aplicando a taxa de atratividade aos fluxos incrementais, eles passariam a R\$ 18 181,00, R\$ 4 132,00, R\$ 7 513,00 e R\$ 13 660,00, conforme demonstrado na figura a seguir.



BRUNI, A. L.; FAMÁ, R. **As decisões de investimentos**: com aplicações na HP 12C e Excel. 4. ed. São Paulo: GEN Atlas, 2017 (adaptado).

Com base nas informações apresentadas e considerando apenas os números inteiros, selecione a alternativa correta.

- A** O projeto deve ser rejeitado com base no Valor Presente Líquido (VPL).
- B** A Taxa Interna de Retorno (TIR) é uma taxa que representa o risco do projeto.
- C** A aplicação da técnica de orçamento de capital VPL, resulta no valor de R\$ 6 514.
- D** A TIR, uma técnica de orçamento de capital, é o mesmo que taxa de atratividade.
- E** A aplicação da técnica de orçamento de capital período de *payback* gera um resultado igual a quatro anos.

Área livre



QUESTÃO 15

O método de custeio indica quais elementos devem fazer parte da apuração do custo do produto. O método de custeio por absorção, que é o mais utilizado, por ser o critério fiscal e legal em praticamente todo o mundo, incorpora custos fixos e indiretos de produção. O método de custeio direto/variável, além dos custos variáveis, incorpora também mão de obra direta.

PADOVEZE, C. L. *Controladoria Estratégica e Operacional*. 3. ed. São Paulo: Cengage Learning, 2013 (adaptado).

Com base nas informações apresentadas, avalie as afirmações a seguir.

- I. Matéria-prima, mão de obra direta, mão de obra indireta, custos gerais industriais e depreciação das máquinas da produção são gastos considerados para a determinação do custo unitário de um produto, considerando o método de custeio por absorção.
- II. Matéria-prima e mão de obra direta são gastos considerados para a determinação do custo unitário de um produto, considerando o método de custeio direto/variável.
- III. Matéria-prima, mão de obra direta, mão de obra indireta, mão de obra administrativa/comercial, custos gerais industriais e depreciação das máquinas da produção são gastos considerados para a determinação do custo unitário de um produto, considerando o método de custeio por absorção.

É correto o que se afirma em

- A** I, apenas.
- B** III, apenas.
- C** I e II, apenas.
- D** II e III, apenas.
- E** I, II e III.

Área livre

QUESTÃO 16

Em uma empresa, a riqueza é determinada pela qualidade de suas decisões financeiras, obtida de acordo com a relação de equilíbrio entre risco e retorno esperados. O desempenho operacional deve ser avaliado por seu valor econômico criado, de maneira consistente com o objetivo de maximização da riqueza de seus acionistas. Uma empresa agrega valor econômico quando for capaz de produzir um retorno operacional maior que o custo de suas fontes de capital. Esse excedente de remuneração expressa um acréscimo de riqueza dos proprietários, que promove condições de valorização de mercado da empresa. A dinâmica das decisões financeiras apresenta duas grandes decisões: as de investimentos (aplicação de recursos) e as de financiamento (captação de recursos).

ASSAF NETO, A.; LIMA, F. *Curso de administração financeira*. 4. ed. São Paulo: GEN Atlas, 2019 (adaptado).

Considerando as informações apresentadas, avalie as afirmações a seguir, sob o ponto de vista do custo de capital.

- A** O custo total de capital (WACC) é o custo médio de capital do patrimônio líquido da empresa.
- B** O custo de capital de terceiros é a remuneração exigida pelos credores de dívidas dos sócios.
- C** O custo do capital próprio é o retorno máximo que os acionistas exigem de seu capital investido na empresa.
- D** O risco é menor quando a participação de terceiros na estrutura de capital da empresa é maior.
- E** A proposta de investimento será atraente quando seu retorno for superior às taxas de remuneração requeridas pelos proprietários de capital.

Área livre



QUESTÃO 17

O Valor Presente Líquido (VPL), utilizada na avaliação econômica de investimentos, é obtido pela diferença entre o valor dos benefícios futuros de caixa (FC), descontados a taxa de retorno exigida e o valor presente do investimento.

ASSAF NETO, A.; LIMA, F. G. *Fundamentos de Administração Financeira*. 3. ed. São Paulo: GEN Atlas, 2017 (adaptado).

Para um projeto com valor do investimento no momento inicial (I_0) de R\$ 1 000,00 e valor presente dos benefícios futuros de R\$ 910,00 tem-se que o VPL é de

- A – R\$ 100,00.
- B – R\$ 90,00.
- C R\$ 0,00.
- D R\$ 90,00.
- E R\$ 100,00.

QUESTÃO 18

O mercado de capitais é um dos mecanismos mais importantes no processo de desenvolvimento das empresas e da economia de um país. Ele possibilita que as empresas captem recursos permanentes e de longo prazo, o que efetua a ligação entre os agentes econômicos que detêm recursos excedentes (investidores) e as empresas que necessitam de recursos para exercer e ampliar suas atividades (empresas tomadoras de recursos).

Nesse contexto, uma *Brazilian Depositary Receipts* (BDR) se apresenta como um dos papéis negociados no mercado de capitais, que representa um

- A título emitido no Brasil, por empresas brasileiras exportadoras, lastreado em contratos de exportações, com a finalidade de efetuar captação de recursos no mercado internacional.
- B recibo de depósito emitido por um banco emissor no mercado brasileiro, que representa valores mobiliários referentes a companhias abertas sediadas no exterior.
- C título emitido no mercado dos Estados Unidos, por banco emissor, para a captação de recursos lastreados em ações de uma companhia aberta, sediada no Brasil.
- D recibo de depósito representativo de valores mobiliários emitidos por companhias abertas, sediadas no Brasil, cuja negociação se efetiva em mercados do exterior.
- E título de crédito emitido no Brasil, por empresas fornecedoras, localizadas no exterior, que mantêm negócios com empresas importadoras sediadas no Brasil.

Área livre



QUESTÃO 19

O ponto de equilíbrio econômico diferencia-se do ponto de equilíbrio contábil por considerar que, além de suportar os custos e despesas fixos, a margem de contribuição dos produtos vendidos deve cobrir o custo de oportunidade do capital investido na empresa. Basicamente, a ideia é a seguinte: em geral o empreendedor tem à sua disposição mais de uma alternativa de investimento e decide por aquela que promete a melhor remuneração.

MEGLIORINI, E. *Custos, análise e gestão*. 3. ed. São Paulo: Person Prendice Hall, 2012 (adaptado)

Uma empresa industrial, que produz e vende um único produto, apresenta as seguintes informações mensais:

DRE mensal		Outras informações	
(+) Receita Bruta	R\$ 60 000,00	Quantidade vendida	300 unidades
(-) CPV	(R\$ 28 000,00)	Custos fixos	R\$ 10 000,00
(=) Lucro Bruto	R\$ 32 000,00	Despesas fixas	R\$ 20 000,00
(-) Despesas operacionais	(R\$ 32 000,00)	Investimento	R\$ 100 000,00
(=) Lucro antes do IR (LAIR)	R\$ 0,00	Retorno bruto desejado	4% do investimento

Considere:

$$PEE = (CF+DF+L)/MCu$$

$$MCu = PV - CVu - DVu$$

A partir do texto e da tabela, para se atingir o ponto de equilíbrio econômico, a indústria deverá vender

- A** 350 unidades.
- B** 340 unidades.
- C** 330 unidades.
- D** 320 unidades.
- E** 310 unidades.

Área livre



QUESTÃO 20

No mês de maio de 2021, o saldo final de disponíveis de uma empresa totalizou R\$ 42 000,00, conforme pode ser observado na tabela a seguir.

Valores em R\$	Maio (2021)
Saldo Inicial (disponíveis)	50 500,00
Total de Recursos Recebidos no Mês	32 000,00
Total de Pagamentos	40 500,00
Saldo Final (disponíveis)	42 000,00

No mês de junho, foram disponibilizadas as seguintes informações pela contabilidade:

- Vendas à vista: R\$ 16 500,00.
- Vendas a prazo em junho (prazo de 30 dias a partir da venda): R\$ 20 500,00.
- Recebimentos de vendas a prazo do mês anterior: R\$ 31 500,00.
- Provisão de devedores duvidosos (atrasos superiores a 90 dias): R\$ 1 500,00.
- Depreciação de Instalações (do mês): R\$ 2 500,00.
- Compras de mercadorias (à vista): R\$ 20 500,00. Custo de mercadorias vendidas: R\$ 18 500,00.
- Salários pagos no mês: R\$ 17 000,00.
- Gastos diversos pagos no mês: R\$ 5 000,00.

Utilize essas informações nas movimentações do fluxo de caixa da empresa no mês de junho 2021 e aponte a opção de resposta que apresenta o saldo final no referido mês.

- A** R\$ 29 000,00.
- B** R\$ 43 500,00.
- C** R\$ 45 500,00.
- D** R\$ 46 000,00.
- E** R\$ 47 500,00.

Área livre

QUESTÃO 21

TEXTO 1

Fluxo de caixa é um instrumento que apura o resultado entre o fluxo de entradas e o de saídas de moeda corrente em determinado período de tempo. É por meio do fluxo de caixa que o gestor financeiro pode administrar o grau de liquidez da empresa. Identifica excessos de recursos, que podem ser aplicados, ou escassez de recursos, que demandam captação.

MATHIAS, A. B. *Finanças Corporativas de Curto Prazo*. 2. ed. São Paulo: GEN Atlas, 2014 (adaptado).

TEXTO 2

As vendas de uma empresa revendedora de peças automotivas para os meses de janeiro, fevereiro e março de determinado ano foram de R\$ 200 000,00, R\$ 250 000,00 e R\$ 300 000,00 respectivamente. Do total vendido, 10% a empresa recebe à vista e o restante, no mês seguinte. As compras de produtos para revenda no mesmo período foram de R\$ 100 000,00, R\$ 125 000,00 e R\$ 150 000,00 respectivamente, com pagamentos realizados à vista. As despesas operacionais mensais são de R\$ 50 000,00 pagas à vista. O saldo inicial de caixa é de R\$ 150 000,00.

Considerando as informações apresentadas, o saldo final de caixa dos meses de janeiro, fevereiro e março são, respectivamente, de

- A** R\$ 130 000,00, R\$ 30 000,00 e R\$ 55 000,00.
- B** R\$ 20 000,00, R\$ 30 000,00 e R\$ 55 000,00.
- C** R\$ 20 000,00, R\$ 50 000,00 e R\$ 105 000,00.
- D** R\$ 20 000,00, R\$ 180 000,00 e R\$ 205 000,00.
- E** R\$ 200 000,00, R\$ 275 000,00 e R\$ 375 000,00.

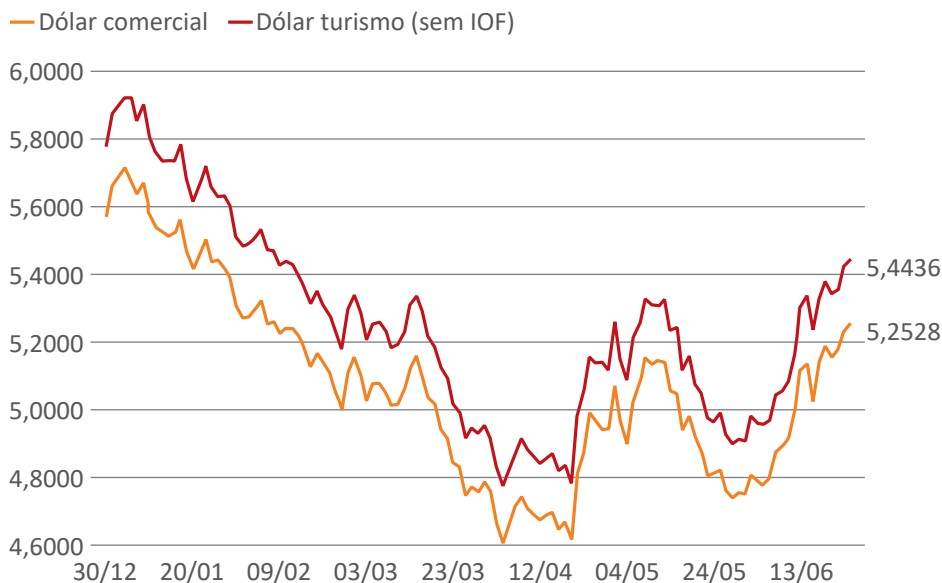
Área livre

QUESTÃO 22

Um país tenta controlar a valorização e a desvalorização de sua moeda frente a dos demais países por meio da política cambial. Desde 1999, o Brasil adotou o regime de câmbio flutuante. Na chamada “política cambial flutuante suja”, a política flutua livremente, mas o Banco Central pode aumentar ou reduzir o preço da moeda sempre que for necessário intervir.

Com relação a esse assunto, analise o gráfico a seguir.

Variação do dólar em 2022 — Cotação de fechamento, em R\$



Disponível em: <https://g1.globo.com/economia/noticia/2022/06/23/dolar.shtml>. Acesso em: 25 jun. 2022 (adaptado).

Considerando o momento de desvalorização contínua do real frente ao dólar e a política cambial adotada pelo Brasil, bem como o gráfico apresentado, avalie as afirmações a seguir.

- I. O Banco Central pode optar por operação que represente aumento da oferta de dólar para o mercado, como, por exemplo, leilão de dólares das reservas cambiais do país, o que ajudaria a segurar ou a reduzir a cotação da moeda americana.
- II. O Brasil adotou uma política cambial flutuante suja, que implica em não poder atuar neste momento de desvalorização, uma vez que, no regime cambial, o preceito é deixar o mercado cambial sem intervenção do governo.
- III. O governo deve mudar a política cambial para a situação não se agravar com o risco de uma maxidesvalorização da moeda nacional, adotando o regime cambial fixo para conseguir, dessa forma, estabelecer taxa de câmbio mais favorável para o país.

É correto o que se afirma em

- A** I, apenas.
- B** II, apenas.
- C** I e III, apenas.
- D** II e III, apenas.
- E** I, II e III.



QUESTÃO 23

O ciclo operacional é formado pela soma dos prazos médios de estoques de matérias-primas, materiais em elaboração, produtos acabados e recebimento das vendas (prazo médio de recebíveis).

O ciclo de caixa compreende o período de tempo entre o momento do desembolso do pagamento aos fornecedores até a data do recebimento das vendas. O ciclo de caixa também pode ser expresso pela diferença entre o tempo do ciclo operacional menos o prazo médio de pagamento aos fornecedores. O ciclo de caixa pode ser positivo ou negativo.

Por fim, a necessidade de investimento em giro pode ser estimada por meio da multiplicação do ciclo de caixa pelo consumo de recursos diários. Assim, variações do ciclo de caixa afetam a necessidade de investimento em giro.

ASSAF NETO, A. *Estrutura e análise de balanços: um enfoque econômico-financeiro*. 12. ed. São Paulo: GEN Atlas, 2020 (adaptado).

Com base no texto, escolha a alternativa que expresse uma afirmativa verdadeira.

- A** O aumento do prazo de estocagem diminui o ciclo de caixa.
- B** A diminuição dos prazos de pagamento aos fornecedores diminui o ciclo de caixa.
- C** O prazo médio de pagamento aos fornecedores é inferior ao ciclo operacional, nas empresas com ciclo de caixa negativo.
- D** O aumento do volume de vendas à vista diminui a necessidade de investimento em giro, nas empresas com ciclo de caixa negativo.
- E** O aumento do volume de vendas à prazo aumenta a disponibilidade de caixa, nas empresas com ciclo de caixa positivo.

Área livre

QUESTÃO 24

O ciclo operacional pode ser explicado como o intervalo existente entre a compra da mercadoria e o recebimento das vendas realizadas. O ciclo financeiro pode ser explicado como o ciclo operacional menos o Prazo Médio de Pagamento a Fornecedores (PMPF). Assim, as decisões e a gestão de contas a receber e contas a pagar impactam o ciclo financeiro da empresa. As necessidades de caixa da empresa aumentam à medida que os prazos de estocagem e de recebimento das vendas crescem acima dos prazos de pagamento aos fornecedores.

ASSAF NETO, A.; LIMA, F. *Curso de administração financeira*. 4. ed. São Paulo: GEN Atlas, 2019 (adaptado).

Considere:

$PME = 360 / \text{Giro do estoque}$

$\text{Ciclo Operacional} = PME + PMR$

$\text{Ciclo Financeiro} = PME + PMR - PMP$

Suponha que uma empresa gira seus estoques quatro vezes ao ano (360 dias). O seu prazo médio de pagamentos a fornecedores é de 30 dias e o prazo médio de recebimento é de 60 dias. Pode-se afirmar que o ciclo operacional e o ciclo financeiro dessa empresa são, respectivamente,

- A** 90 dias, 120 dias.
- B** 120 dias, 90 dias.
- C** 120 dias, 120 dias.
- D** 120 dias, 150 dias.
- E** 150 dias, 120 dias.

Área livre

QUESTÃO 25

As operações de desconto comercial consistem em uma forma diferenciada da aplicação de juros simples. O desconto comercial simples é aquele valor que se obtém pelo cálculo do juro simples sobre o valor nominal do compromisso, que seja saldado n períodos antes de seu vencimento, acrescido de uma taxa prefixada, cobrada sobre o valor nominal. Assim, a incidência da taxa de desconto comercial dá-se sobre o Valor Futuro da operação. Para saber o valor do desconto, basta multiplicar a taxa pelo valor nominal (ou valor futuro) pelo prazo da antecipação, ou seja, $D = VN \cdot d \cdot n$

BRUNI, A. L.; FAMÁ, R. **Matemática Financeira**: com a HP 12C e Excel. 5 ed. São Paulo: Atlas, 2016 (adaptado).

Considere que um título com o valor nominal de R\$ 1 500,00, desembolsado por uma instituição financeira, com vencimento em cinco meses e taxa de juros de desconto simples igual a 3% ao mês geraria um valor líquido igual a R\$ 1 275,00.

A respeito desse contexto, avalie as afirmações a seguir.

- I. O título teve desconto de R\$ 225,00, após ter sido descontado cinco meses antes do vencimento.
- II. O desconto seria de R\$ 125,00, caso o valor nominal de R\$ 1 500,00 fosse descontado três meses antes, com taxa de 2% ao mês.
- III. O valor desembolsado pela instituição financeira seria de R\$ 425,00, se o valor nominal do título fosse de R\$ 500,00, com a mesma taxa de 3% ao mês e o mesmo período de desconto de cinco meses.

É correto o que se afirma em

- A II, apenas.
- B III, apenas.
- C I e II, apenas.
- D I e III, apenas.
- E I, II e III.

Área livre



QUESTÃO 26

Um balanço patrimonial incompleto, com base nas metas operacionais do próximo período, foi apresentado para apurar o fechamento final e para recomendar ações, conforme tabelas a seguir.

ATIVO		PASSIVO	
Caixa	R\$ 10 000,00	Fornecedores	R\$ 80 000,00
Recebíveis	R\$ 40 000,00	Folha a Pagar	R\$ 20 000,00
Estoques	R\$ 60 000,00	Empréstimos	R\$ 60 000,00
Despesas Antecipadas	R\$ 10 000,00	Total Passivos Circulantes	
Total de Ativos Circulantes		PATRIMÔNIO LÍQUIDO	
		Capital Social	R\$ 30 000,00
Investimento	R\$ 10 000,00	Lucros Retidos Previstos	R\$ 80 000,00
Imobilizado	R\$ 150 000,00	Total Patrimônio Líquido	
Intangíveis	R\$ 30 000,00		
Total de Ativos Não Circulantes			
Total de Ativos		Total de passivo + PL	

Com base nas informações apresentadas, qual alternativa corresponde ao fechamento e à recomendação, respectivamente?

- A** Sobrarão R\$ 20 000,00 de recursos; empresa cumprirá a meta e poderá distribuir capital ou pagar dívidas.
- B** Sobrarão R\$ 30 000,00 de recursos; empresa cumprirá a meta e poderá distribuir capital ou pagar dívidas.
- C** Faltarão R\$ 20 000,00 de recursos; empresa só cumprirá a meta estabelecida se captar novos recursos.
- D** Faltarão R\$ 30 000,00 de recursos; empresa só cumprirá a meta estabelecida se captar novos recursos.
- E** Faltarão R\$ 40 000,00 de recursos; empresa só cumprirá a meta estabelecida se captar novos recursos.

Área livre



QUESTÃO 27

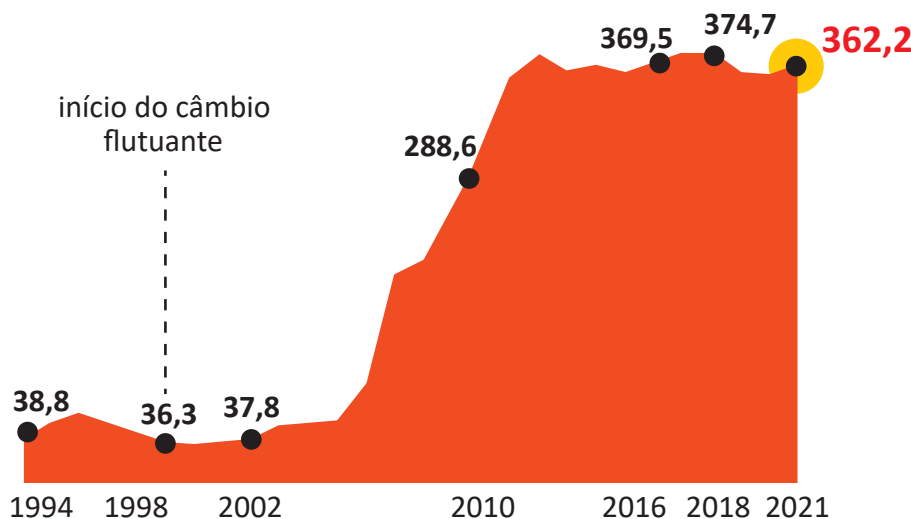
O Banco Central pode atuar diretamente no mercado cambial, comprando e vendendo moeda estrangeira de forma ocasional e limitada, com o objetivo de conter movimentos desordenados da taxa de câmbio.

Outro mecanismo de interferência na cotação do dólar é a taxa de juros. Ao optar pela alteração dela, o Comitê de Política Monetária (COPOM) visa atrair ou afastar investidores estrangeiros, dependendo do interesse econômico brasileiro no momento.

As exportações e importações também podem influenciar a taxa de câmbio, pois elevariam ou reduziriam a oferta de dólares no país, já que as importações significam saída de dólares e as exportações, entradas. As reservas cambiais, por sua vez, são diretamente afetadas pela entrada e saída de divisas da economia.

Quando o país possui poucos dólares e ouro em suas reservas, há mais riscos de ataques especulativos e desvalorização da própria moeda. A esse respeito, analise o gráfico a seguir.

Reservas Internacionais brasileiras desde o início do Plano Real até dez./2021 — total em US\$ bilhões



Disponível em: poder360.com.br/economia/com-ajuda-do-fmi-reservas-internacionais-sobem-em-2021.
Acesso em: 21 ago. 2022 (adaptado).

Conforme o exposto, é correto afirmar que o Brasil possuía, no final de 2021, um estoque de reservas cambiais

- A** elevado, o que permitia ao Banco Central intervir no mercado se necessário.
- B** baixo, o que não permitia ao Banco Central intervir no mercado se necessário.
- C** moderado, o que permitia ao Banco Central intervir no mercado se necessário.
- D** moderado, o que não permitia ao Banco Central intervir no mercado se necessário.
- E** péssimo, o que não permitia ao Banco Central intervir no mercado de forma alguma.

Área livre

**QUESTÃO 28**

O Sistema Financeiro Nacional (SFN) é formado por um conjunto de entidades e instituições que promovem a intermediação financeira, encontro entre credores e tomadores de recursos. É por meio do sistema financeiro que as pessoas, as empresas e o governo fazem circular a maior parte dos seus ativos, pagam suas dívidas e realizam seus investimentos.

Disponível em: <https://www.bcb.gov.br/>. Acesso em: 26 jun. 2022 (adaptado).

A partir do exposto no texto, avalie as afirmações a seguir.

- I. O Conselho Monetário Nacional (CMN) é o órgão normativo responsável pela formulação da política da moeda e do crédito, ou seja, é a instância de coordenação da política macroeconômica do governo federal, que decide, por exemplo, a meta para a inflação, as diretrizes para o câmbio e as normas principais para o funcionamento das instituições financeiras.
- II. Os órgãos supervisores do SFN são: Banco Central (BC), Comissão de Valores Mobiliários (CVM), Superintendência de Seguros Privados (Susep), Superintendência Nacional de Previdência Complementar (Previc); entre os órgãos operadores incluem-se: bancos, caixas econômicas, bolsa de valores, seguradoras, corretoras e cooperativas de créditos.
- III. O Banco Central (BC), autarquia federal que tem como principal missão institucional assegurar a estabilidade do poder de compra da moeda nacional e um sistema financeiro sólido e eficiente, tem entre suas funções garantir o cumprimento das normas do Conselho Monetário Nacional (CMN), monitorar e fiscalizar o sistema financeiro e executar as políticas monetária, cambial e de crédito.
- IV. A Superintendência de Seguros Privados (Susep), entidade autárquica em regime especial vinculada ao Ministério da Fazenda, tem por objetivo fiscalizar, normatizar, disciplinar e desenvolver o mercado de valores mobiliários no Brasil, sendo uma das suas funções estimular a formação de poupança e sua aplicação em valores mobiliários.

É correto apenas o que se afirma em

- A** I e II.
- B** I e IV.
- C** III e IV.
- D** I, II e III.
- E** II, III e IV.

Área livre



QUESTÃO 29

O balanço patrimonial serve como uma fotografia que reflete a posição financeira e patrimonial em determinado momento, um instantâneo que, em qualquer período (mensal, trimestral, semestral ou anual), resume, de forma organizada, o patrimônio, as riquezas deduzidas das dívidas de uma empresa. Já a Demonstração do Resultado do Exercício (DRE) é um resumo ordenado das receitas e despesas de uma empresa em determinado período.

IUDÍCIBUS, S.; MARION, J. C. *Curso de contabilidade para não contadores*. 8. ed. São Paulo: Atlas, 2021 (adaptado).

A tabela a seguir apresenta o Balanço Patrimonial e a DRE da empresa Alfa Ltda.

Empresa Alfa LTDA	21/12/2021
BALANÇO PATRIMONIAL	Em R\$
ATIVO	2 000 000,00
Ativo Circulante	1 200 000,00
Caixa e Equivalente de Caixa	200 000,00
Duplicatas a Receber	400 000,00
Estoques	600 000,00
Ativo não Circulante	800 000,00
Realizável a longo Prazo	300 000,00
Imobilizado	500 000,00
PASSIVO + PATRIMÔNIO LÍQUIDO	2 000 000,00
Passivo Circulante	1 100 000,00
Fornecedores	700 000,00
Empréstimos Bancários	400 000,00
Passivo não Circulante	300 000,00
Empresa Alfa Ltda.	31/12/2021
DEMONSTRAÇÃO DO RESULTADO DO EXERCÍCIO	Em R\$
Receita Bruta de Venda	2 600 000,00
Impostos e Deduções	600 000,00
Receita Líquida de Venda	2 000 000,00
Custo dos Bens Vendidos	450 000,00

Considerando as informações apresentadas, verifica-se que os valores correspondentes ao patrimônio líquido e ao resultado bruto são, respectivamente, iguais a

- A** R\$ 400 000,00 e R\$ 1 550 000,00.
- B** R\$ 500 000,00 e R\$ 1 350 000,00.
- C** R\$ 500 000,00 e R\$ 1 450 000,00.
- D** R\$ 600 000,00 e R\$ 1 250 000,00.
- E** R\$ 600 000,00 e R\$ 1 550 000,00.

**QUESTÃO 30**

No Brasil, a meta para a inflação é definida pelo Conselho Monetário Nacional (CMN) e cabe ao Banco Central (BC) adotar as medidas necessárias para alcançá-la. O índice de preços utilizado é o Índice Nacional de Preços ao Consumidor Amplo (IPCA), calculado pelo Instituto Brasileiro de Geografia e Estatística (IBGE).

Disponível em: <https://www.bcb.gov.br/controleinflacao/metainflacao>. Acesso em: 25 jul. 2022 (adaptado).

Acerca da atuação do Banco Central do Brasil no cenário inflacionário atual do país, avalie as afirmações a seguir.

- I. O Banco Central, para enfrentar a alta inflação, pode aumentar a taxa de juros (SELIC), como ação de política monetária, e apreciar a moeda nacional, como medida de política cambial.
- II. O Banco Central, no cenário inflacionário atual, pode adotar uma estratégia elevando tanto o compulsório bancário, como ação de política monetária, quanto a arrecadação fiscal, como ação de política fiscal.
- III. O Banco Central do Brasil pode adotar o aumento da taxa de juros (SELIC) e a redução do compulsório bancário, sendo ambas ações de política monetária.

É correto o que se afirma em

- A** I, apenas.
- B** II, apenas.
- C** I e III apenas.
- D** II e III apenas.
- E** I, II e III.

QUESTÃO 31

Suponha que uma empresa tenha vendido seus produtos a um cliente pelo valor de R\$ 13 980,00, porém, para facilitar a operação, a empresa realizou parte dessa venda a prazo, ou seja, dos R\$ 13 980,00, o cliente irá pagar R\$ 4 380,00 à vista e a diferença, após 30 dias da compra.

Decorridos 10 dias da venda, a empresa é surpreendida com uma cobrança inesperada de R\$ 8 400,00. Quando o gestor foi ao banco para sacar o valor correspondente da dívida, ele descobriu que não possuía os recursos para quitá-la. Diante dessa situação, o gestor resolveu utilizar a duplicata emitida para procurar um Fundo de Investimento em Direitos Creditórios (FIDC) a fim de realizar o desconto comercial dessa duplicata, antecipando, assim, seu vencimento.

Sabendo-se que o fundo não irá antecipar o recebimento de graça, o gestor financeiro verificou que a taxa aplicada era de 10% a.m. pelo regime de juros simples, ou seja, desconto comercial simples.

Com base nessas informações e considerando que $D_{cs} = VN.d.n$, o valor que entrará no caixa da empresa mencionada, descontando a duplicata e pago o título inesperado, será de

- A** R\$ 240,00.
- B** R\$ 560,00.
- C** R\$ 640,00.
- D** R\$ 840,00.
- E** R\$ 960,00.



QUESTÃO 32

Após a recessão econômica mundial ocasionada pela pandemia de Covid-19, muitos brasileiros veem o mercado de moedas digitais como uma aplicação financeira. Tais ativos financeiros, também conhecidos como criptomoedas ou moedas virtuais, assemelham-se a moedas, em seu sentido tradicional, com a grande diferença de que estas são controladas por um órgão ou governo — a Casa da Moeda, no caso do Brasil —, ao passo que aquelas, em sua maioria, não se submetem a um órgão regulador.

Prometendo descomplicar o sistema financeiro, as criptomoedas dispensam intermediários em suas transações, que são realizadas por meio de um sistema chamado *blockchain*, composto por dois mecanismos: o *block*, capaz de registrar a movimentação dos ativos, e o *chain*, função algorítmica que gera uma impressão digital, o que possibilita individualizar cada criptomoeda. Quando o assunto passa a ser a regulamentação das moedas digitais no cenário nacional, é imperioso destacar o Comunicado Bacen n. 25.306/2014, no qual se diferencia criptomoedas de “moeda eletrônica”.

Disponível em: <https://exame.com/bussola/tributacao-de-criptomoedas-avanco-ou-violacao-da-legalidade/>.
Acesso em: 25 jun. 2022 (adaptado).

Considerando o exposto, avalie as afirmações a seguir.

- I. As moedas virtuais não são emitidas, garantidas ou reguladas pelo Banco Central do Brasil e possuem forma, denominação e valor próprios.
- II. As moedas virtuais podem ser usadas como aplicações financeiras, estando, nesse caso, a compra e a guarda delas sujeitas aos riscos de perda de todo o capital investido, em razão de fraudes e da variação de seu preço.
- III. As moedas virtuais não se confundem com o padrão monetário do real, de curso forçado, ou com o padrão de qualquer outra autoridade monetária; assim, também não se confundem com a moeda eletrônica prevista na legislação, que se caracteriza como recurso, em reais, mantido em meio eletrônico.

É correto o que se afirma em

- A I, apenas.
- B III, apenas.
- C I e II, apenas.
- D II e III, apenas.
- E I, II e III.

Área livre



QUESTÃO 33

A inflação provoca vários efeitos negativos na economia. Entre eles está a queda no poder de compra e a redução no consumo, que por sua vez reduz a expectativa de vendas. Além disso, tende a gerar diminuição nos investimentos.

A queda no consumo e na taxa de investimento também geram impactos negativos no Produto Interno Bruto (PIB). Com o consumo e o investimento sofrendo queda, provavelmente haverá redução no crescimento econômico.

Com base nas informações apresentadas, avalie as afirmações a seguir.

- I. As camadas mais pobres da população são as mais prejudicadas pela inflação, visto que sua renda está envolvida na maioria dos produtos inelásticos.
- II. Os índices de preços são números que agregam e representam os preços de determinada cesta de bens e serviços específicos.
- III. O Índice Nacional de Preços ao Consumidor (INPC) serve de base para o reajuste do salário-mínimo.
- IV. A inflação de custos é causada pelo aumento da oferta agregada.

É correto apenas o que se afirma em

- A** I e II.
- B** II e IV.
- C** III e IV.
- D** I, II e III.
- E** I, III e IV.

Área livre

QUESTÃO 34

Especialistas do mercado financeiro estão receosos sobre a melhora do cenário econômico de um país. Após o período de recessão, o governo utiliza diversos instrumentos de política econômica como forma de incentivar o crescimento, em uma clara posição expansionista. Porém, a recuperação está ocorrendo de forma lenta e gradual. Diante dessa situação de mercado, atendendo a estratégia conservadora de expansão dos negócios da companhia X, o departamento financeiro apresentou um plano com os principais indicadores e, entre eles, o quadro que leva em consideração a projeção do LAJIR (Lucro Antes dos Juros e Imposto de Renda), do LAIR (Lucro Antes do Imposto de Renda) e do GAF (Grau de Alavancagem Financeira).

Alavancagem Financeira	
LAJIR	R\$ 100 000,00
LAIR	R\$ 100 000,00
GAF	1

$$\text{GAF} = \text{LAJIR} / \text{LAIR}$$

Considerando que as projeções de lucro interferem na alavancagem financeira, avalie as asserções a seguir e a relação proposta entre elas.

I. A alavancagem financeira é nula.

PORQUE

II. A lucratividade da empresa não será afetada pelo uso de capital de terceiros a longo prazo.

A respeito dessas asserções, assinale a opção correta.

- A** As asserções I e II são proposições verdadeiras, e a II é uma justificativa correta da I.
- B** As asserções I e II são proposições verdadeiras, mas a II não é uma justificativa correta da I.
- C** A asserção I é uma proposição verdadeira, e a II é uma proposição falsa.
- D** A asserção I é uma proposição falsa, e a II é uma proposição verdadeira.
- E** As asserções I e II são proposições falsas.

Área livre

**QUESTÃO 35**

A pandemia de Covid-19 provocou um choque de grandes proporções não só pela sua intensidade como pela sua abrangência geral e as pessoas foram impactadas em diferentes estratos sociais, localidades e aspectos de suas vidas, mostra a pesquisa Desigualdade de Impactos Trabalhistas na Pandemia, coordenada pela Fundação Getúlio Vargas Social (FGV Social).

De acordo com a pesquisa, a renda individual média do brasileiro, entre informais, desempregados e inativos está atualmente 9,4% abaixo do nível registrado no final de 2019. Na metade mais pobre da população, a perda de renda atingiu -21,5%, o que conforme o estudo configura o aumento da desigualdade entre a base e a totalidade da distribuição. Ao longo da pandemia, a queda de renda entre os 10% mais ricos ficou em -7,16%, e representa menos de 1/3 da queda de renda da metade mais pobre. Já na faixa que se compara com a classe média no sentido estatístico, a queda de renda ficou em 8,96%, cerca de 2,8 pontos percentuais de perda acima do extremo superior.

Disponível em: www.agenciabrasil.gov.br Acesso e: 20 jul. 2022 (adaptado).

Considerando as informações apresentadas, assinale a opção correta.

- A** A distribuição de renda fica inalterada durante e após um processo inflacionário, pois todos os agentes têm acesso aos mesmos instrumentos financeiros.
- B** Os mecanismos de alocação de recursos do mercado, em meio a um processo inflacionário, continuam funcionando e sendo eficientes, pois não há perda da noção de preços relativos.
- C** A alta generalizada dos preços afeta mais as famílias de baixa renda, segmento, geralmente, com menos qualificação e que, portanto, sofre mais com a inflação em momento de desemprego elevado.
- D** A redução do consumo, em um processo inflacionário, não acarreta a diminuição do valor da arrecadação fiscal do governo, uma vez que a cobrança de tributos e a arrecadação são mantidas pelo governo.
- E** O saldo do Balanço de Pagamentos não é afetado por um processo inflacionário interno, o que se deve exclusivamente ao fato de os agentes financeiros comprarem apenas moeda estrangeira como reserva de valor.

Área livre

**QUESTIONÁRIO DE PERCEPÇÃO DA PROVA**

As questões abaixo visam conhecer sua opinião sobre a qualidade e a adequação da prova que você acabou de realizar.

Assinale as alternativas correspondentes a sua opinião nos espaços apropriados do **CARTÃO-RESPOSTA**.

AVALIAÇÃO GLOBAL DA PROVA**QUESTÃO 01**

Qual foi o tempo gasto por você para concluir a prova?

- A Menos de uma hora.
- B Entre uma e duas horas.
- C Entre duas e três horas.
- D Entre três e quatro horas.
- E Quatro horas, e não consegui terminar.

QUESTÃO 02

Em relação ao tempo total de aplicação, você considera que a prova foi

- A muito longa.
- B longa.
- C adequada.
- D curta.
- E muito curta.

QUESTÃO 03

As informações/instruções fornecidas para a resolução das questões foram suficientes para resolvê-las?

- A Sim, até excessivas.
- B Sim, em todas elas.
- C Sim, na maioria delas.
- D Sim, somente em algumas.
- E Não, em nenhuma delas.

QUESTÃO 04

Você se deparou com alguma dificuldade ao responder à prova? Qual?

- A Desconhecimento do conteúdo.
- B Forma diferente de abordagem do conteúdo.
- C Espaço insuficiente para responder às questões.
- D Falta de motivação para fazer a prova.
- E Não tive qualquer tipo de dificuldade para responder à prova.

QUESTÃO 05

Considerando apenas as questões objetivas da prova, você percebeu que

- A não estudou ainda a maioria desses conteúdos.
- B estudou alguns desses conteúdos, mas não os aprendeu.
- C estudou a maioria desses conteúdos, mas não os aprendeu.
- D estudou e aprendeu muitos desses conteúdos.
- E estudou e aprendeu todos esses conteúdos.

FORMAÇÃO GERAL**QUESTÃO 06**

Qual o grau de dificuldade das questões de Formação Geral?

- A Muito fácil.
- B Fácil.
- C Médio.
- D Difícil.
- E Muito difícil.

QUESTÃO 07

Os enunciados das questões de Formação Geral estavam compreensíveis e objetivos?

- A Sim, todos.
- B Sim, a maioria.
- C Apenas cerca da metade.
- D Poucos.
- E Não, nenhum.

COMPONENTE ESPECÍFICO**QUESTÃO 08**

Qual o grau de dificuldade das questões do Componente Específico?

- A Muito fácil.
- B Fácil.
- C Médio.
- D Difícil.
- E Muito difícil.

QUESTÃO 09

Os enunciados das questões do Componente Específico estavam compreensíveis e objetivos?

- A Sim, todos.
- B Sim, a maioria.
- C Apenas cerca da metade.
- D Poucos.
- E Não, nenhum.



* R 2 3 2 0 2 2 4 0 *

sinaes
Sistema Nacional de Avaliação
da Educação Superior

enade2022

Exame Nacional de Desempenho dos Estudantes

INEP